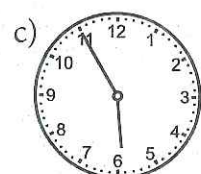
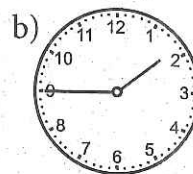
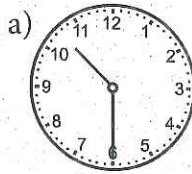


Läxa 9

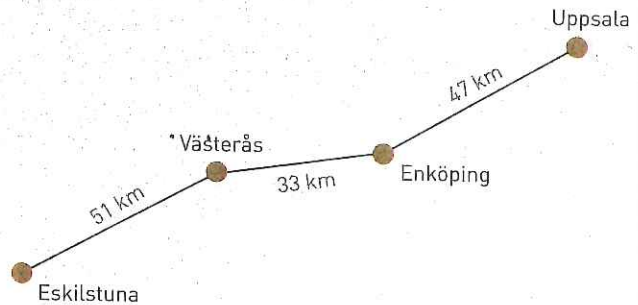
- Skriv talen med siffror.
 - ett hundrasju
 - tretusen femhundra fyra
- $6 \cdot 500$
 - $\frac{54}{6}$
 - $90 \cdot 7$
- Skriv i digital tid.
 - Halv nio på kvällen
 - Kvart över två på eftermiddagen

- Skriv två klockslag till varje bild.




- En påse med 6 bullar kostar 48 kr.
Hur mycket kostar
 - 1 bulle
 - 3 bullar
 - 5 bullar

- Hur långt är det mellan Eskilstuna och Uppsala?



- Isak och Irma köper tillsammans sju lotter för 56 kr.
 - Hur mycket ska Isak betala om han tar fyra av lotterna?
 - Hur mycket ska Irma betala?

- Det högsta torn med legobitar som byggts var 29 485 mm högt.
Hur många millimeter högre skulle tornet behövt vara för att det skulle ha varit 30 m? (1 m = 1 000 mm)



Veckans problem

I en slalombacke står det 14 portar.

Det är 10 m mellan varje port.

Hur långt är det mellan första och sista slalomporten?